

제 2 교시

수학 영역

5 지선 다형

1. $\sqrt[5]{54} \times 2^{\frac{5}{3}}$ 의 값은? [2점]

- ① 4 ② 6 ③ 8 ④ 10 ⑤ 12

$$\begin{aligned} &3^3 \times 2 \\ &3 \times 2^{\frac{1}{3}} \times 2^{\frac{5}{3}} \end{aligned}$$

2. 함수 $f(x) = x^3 - 3x^2 + x$ 에 대하여 $\lim_{h \rightarrow 0} \frac{f(3+h) - f(3)}{2h}$ 의

값은? [2점]

- ① 1 ② 3 ③ 5 ④ 7 ⑤ 9

$$\frac{1}{2} f'(3)$$

$$\frac{27 - 18 + 1}{2}$$

3. $\cos \theta > 0$ 이고 $\sin \theta + \cos \theta \tan \theta = -1$ 일 때, $\tan \theta$ 의 값은?

[3점]

- ① $-\sqrt{3}$ ② $-\frac{\sqrt{3}}{3}$ ③ $\frac{\sqrt{3}}{3}$ ④ 1 ⑤ $\sqrt{3}$

$$\sin = -\frac{1}{2}$$

$$\frac{2/1}{\sqrt{3}}$$

4. 함수

$$f(x) = \begin{cases} 2x+a & (x < 3) \\ \sqrt{x+1}-a & (x \geq 3) \end{cases}$$

이 $x=3$ 에서 연속일 때, 상수 a 의 값은? [3점]

- ① -2 ② -1 ③ 0 ④ 1 ⑤ 2

$$6 + a = 2 - a$$

5. 다항함수 $f(x)$ 가

$$f'(x) = x(3x+2), \quad f(1) = 6$$

을 만족시킬 때, $f(0)$ 의 값은? [3점]

- ① 1 ② 2 ③ 3 ④ 4 ⑤ 5

$$x^3 + x^2 + 4$$

6. 공비가 1보다 큰 등비수열 $\{a_n\}$ 의 첫째항부터 제 n 항까지의 합을 S_n 이라 하자.

$$\frac{S_4}{S_2} = 5, \quad a_5 = 48$$

일 때, $a_1 + a_4$ 의 값은? [3점]

- ① 39 ② 36 ③ 33 ④ 30 ⑤ 27

$$r^2 = 4 \quad 24 \div 3$$

$$r = 2$$

7. 함수 $f(x) = \frac{1}{3}x^3 - 2x^2 - 5x + 1$ 이 닫힌구간 $[a, b]$ 에서

감소할 때, $b-a$ 의 최댓값은? (단, a, b 는 $a < b$ 인 실수이다.)

[3점]

- ① 6 ② 7 ③ 8 ④ 9 ⑤ 10

$$x^2 - 4x - 5$$

$$\begin{array}{r} x \\ x \end{array} \begin{array}{r} -5 \\ -5 \end{array} \Big) 6$$

8. 두 다항함수 $f(x), g(x)$ 에 대하여

$$(x+1)f(x) + (1-x)g(x) = x^3 + 9x + 1, \quad f(0) = 4$$

일 때, $f'(0) + g'(0)$ 의 값은? [3점]

- ① 1 ② 2 ③ 3 ④ 4 ⑤ 5

$$4 + g(0) = 1$$

$$g(0) = -3$$

$$4 + f'(0) + g(0) + g'(0) = 9$$

$$+3$$

$$f' + g' = 2$$

9. 좌표평면 위의 두 점 $(0, 0), (\log_2 9, k)$ 를 지나는 직선이 직선 $(\log_4 3)x + (\log_8 8)y - 2 = 0$ 에 수직일 때, 3^k 의 값은? (단, k 는 상수이다.) [4점]

- ① 16 ② 32 ③ 64 ④ 128 ⑤ 256

$$\frac{k}{2 \log_2 3} \text{ @ } \frac{k \log_3 2}{2} =$$

$$\frac{-\frac{1}{2} \log_2 3}{\frac{2}{2} \log_3 2}$$

$$\frac{-\log_2 3}{2 \log_3 2} = -\frac{1}{2} \log_2 3 \cdot \frac{2}{2} = -\frac{1}{2} \log_2 3$$

$$\log_3 2 = \frac{6}{2k}$$

$$\frac{2k}{3} = \log_3 2$$

$$k = 6 \log_3 2$$

10. 시각 $t=0$ 일 때 동시에 원점을 출발하여 수직선 위를 움직이는 두 점 P, Q의 시각 $t(t \geq 0)$ 에서의 속도가 각각

$$v_1(t) = 3t^2 - 6t - 2, \quad v_2(t) = -2t + 6$$

이다. 출발한 시각부터 두 점 P, Q가 다시 만날 때까지 점 Q가 움직인 거리는? [4점]

- ① 7 ② 8 ③ 9 ④ 10 ⑤ 11

$$t^3 - 3t^2 - 2t = -t + 6t$$

$$t^3 - 2t^2 - 8t = 0$$

$$t(t^2 - 2t - 8) = 0$$

$$t^2 - 2t - 8 = 0$$

$$(t-4)(t+2) = 0$$

$$t = 4$$

9:1

11. 공차가 음의 정수인 등차수열 $\{a_n\}$ 에 대하여

$$a_6 = -2, \sum_{k=1}^8 |a_k| = \sum_{k=1}^8 a_k + 42$$

일 때, $\sum_{k=1}^8 a_k$ 의 값은? [4점]

- ① 40 ② 44 ③ 48 ④ 52 ⑤ 56

78 a4.5

$$42 = \sum_{k=1}^8 |a_k| - a_k$$

$$a_k \geq 0 \quad \circ$$

$$< 0 \quad -2a_k$$

$$42 = -2(a_6 + a_7 + a_8)$$

$$-6a_7$$

$$a_7 = -7$$

$$d = -5$$

$$a_{4.5} = a_7 - 2.5d$$

$$-7 + 12.5$$

$$5.5$$

$$44.0$$

12. 실수 a 에 대하여 함수 $f(x)$ 는

$$f(x) = \begin{cases} 3x^2 + 3x + 6 & (x < 0) \\ 3x + a & (x \geq 0) \end{cases}$$

이다. 함수

$$g(x) = \int_{-4}^x f(t) dt$$

가 $x=2$ 에서 극솟값을 가질 때, 함수 $g(x)$ 의 극댓값은? [4점]

- ① 18 ② 20 ③ 22 ④ 24 ⑤ 26

$$g'(x) = f(x)$$

$$g'(2) = f(2) = 0 \quad a = -6$$

$$g \int_{-4}^{-2}$$

$$x^3 + \frac{3}{2}x^2 - 6x \Big|_{-4}^{-2}$$

$$-8 + 6 + 12 + 64 - 24 - 24$$

$$10 \quad -46$$

$$14$$

$$-46$$

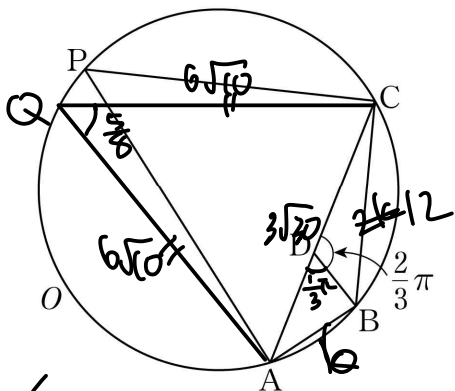
$$6$$

13. 그림과 같이

$$2\overline{AB} = \overline{BC}, \quad \cos(\angle ABC) = -\frac{5}{8}$$

인 삼각형 ABC의 외접원을 O라 하자. 원 O 위의 점 P에 대하여 삼각형 PAC의 넓이가 최대가 되도록 하는 점 P를 Q라 할 때, $\overline{QA} = 6\sqrt{10}$ 이다. 선분 AC 위의 점 D에 대하여 $\angle CDB = \frac{2}{3}\pi$ 일 때, 삼각형 CDB의 외접원의 반지름의 길이는?

[4점]



- ① $3\sqrt{3}$ ② $4\sqrt{3}$ ③ $3\sqrt{6}$ ④ $5\sqrt{3}$ ⑤ $4\sqrt{6}$

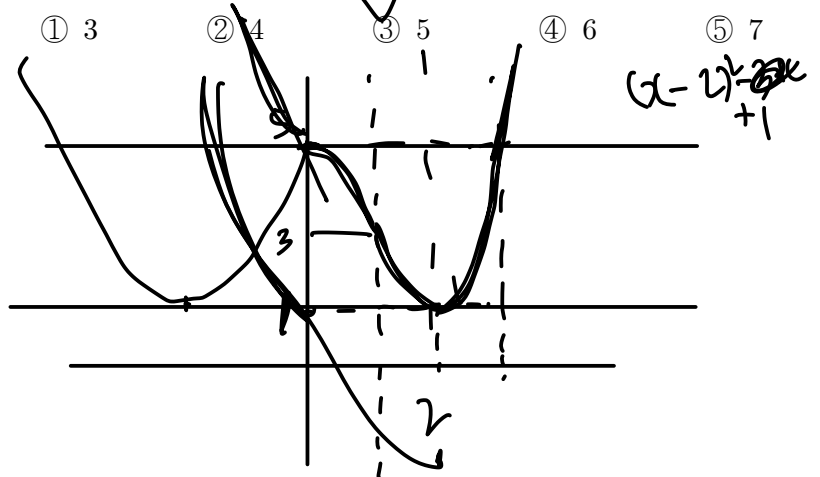
36
 $720 - 2 \cdot \frac{45}{360} \cdot \frac{5}{3}$
 $-\frac{650}{\sqrt{290}}$
 $3\sqrt{30} \cdot \frac{2 \cdot 290}{45} = k^2 + 4k^2 + 2 \cdot k \cdot 2k \cdot \frac{5}{6}$
 $= \frac{15}{2}k^2$
 $k^2 = 36$
 $\frac{4\sqrt{3}}{2} = \frac{24}{\sqrt{3}} \cdot \frac{12}{\sqrt{3}}$
 $4\sqrt{3}$

14. 두 정수 a, b에 대하여 함수 f(x)는

$$f(x) = \begin{cases} x^2 - 2ax + \frac{a^2}{4} + b^2 & (x \leq 0) \\ x^3 - 3x^2 + 5 & (x > 0) \end{cases}$$

$a > 0, a < 0 \rightarrow (x-a)^2 - \frac{3}{4}a + b^2$

이다. 실수 t에 대하여 함수 $y=f(x)$ 의 그래프와 직선 $y=t$ 가 만나는 점의 개수를 $g(t)$ 라 하자. 함수 $g(t)$ 가 $t=k$ 에서 불연속인 실수 k의 개수가 2가 되도록 하는 두 정수 a, b의 모든 순서쌍 (a, b)의 개수는? [4점]



$$\frac{1}{4}a^2 + b^2 = 5 \quad a=0 \quad b^2=1$$

$$-\frac{3}{4}a^2 + b^2 = 1 \quad b = \pm 1$$

$$a^2 = 4 \quad a = \pm 2$$

~~$a = \pm 2, b = \pm 2$~~ 4개
 $a = -2, b = \pm 2$ 5개

2, 2
 2, -2
 -2, 2
 -2, -2
 0, 1
 0, -1

15. 수열 $\{a_n\}$ 이 모든 자연수 n 에 대하여

$$a_{n+1} = \begin{cases} a_n & (a_n > n) \\ 3n - 2 - a_n & (a_n \leq n) \end{cases}$$

을 만족시킬 때, $a_5 = 5$ 가 되도록 하는 모든 a_1 의 값의 곱은? [4점]

- ① 20 ② 30 ③ 40 ④ 50 ⑤ 60

n	1	2	3	4	5
a	5	5	5	5	5

Handwritten notes for problem 15:
 - A circled '2' is written below the table.
 - A '4' is written above the first '5' in the 'a' row.
 - A '2' is written above the second '5' in the 'a' row.
 - A '2' is written above the third '5' in the 'a' row.
 - A '2' is written above the fourth '5' in the 'a' row.
 - A '2' is written below the first '5' in the 'a' row.
 - A '2' is written below the second '5' in the 'a' row.
 - A '2' is written below the third '5' in the 'a' row.
 - A '2' is written below the fourth '5' in the 'a' row.
 - A '2' is written below the fifth '5' in the 'a' row.
 - A '2' is written below the sixth '5' in the 'a' row.
 - A '2' is written below the seventh '5' in the 'a' row.
 - A '2' is written below the eighth '5' in the 'a' row.
 - A '2' is written below the ninth '5' in the 'a' row.
 - A '2' is written below the tenth '5' in the 'a' row.
 - A '2' is written below the eleventh '5' in the 'a' row.
 - A '2' is written below the twelfth '5' in the 'a' row.
 - A '2' is written below the thirteenth '5' in the 'a' row.
 - A '2' is written below the fourteenth '5' in the 'a' row.
 - A '2' is written below the fifteenth '5' in the 'a' row.
 - A '2' is written below the sixteenth '5' in the 'a' row.
 - A '2' is written below the seventeenth '5' in the 'a' row.
 - A '2' is written below the eighteenth '5' in the 'a' row.
 - A '2' is written below the nineteenth '5' in the 'a' row.
 - A '2' is written below the twentieth '5' in the 'a' row.

단답형

16. 방정식 $4^x = \left(\frac{1}{2}\right)^{x-9}$ 을 만족시키는 실수 x 의 값을 구하시오. [3점]

$2x = 9 - x$

(3)

17. $\int_0^2 (3x^2 - 2x + 3) dx - \int_2^0 (2x + 1) dx$ 의 값을 구하시오. [3점]

$3x^2 + 4$
 $x^2 + 4x$ (16)
 $8 + 8$

18. 수열 $\{a_n\}$ 에 대하여

$$\sum_{k=1}^{10} a_k + \sum_{k=1}^9 a_k = 137, \quad \sum_{k=1}^{10} a_k - 2\sum_{k=1}^9 a_k = 101$$

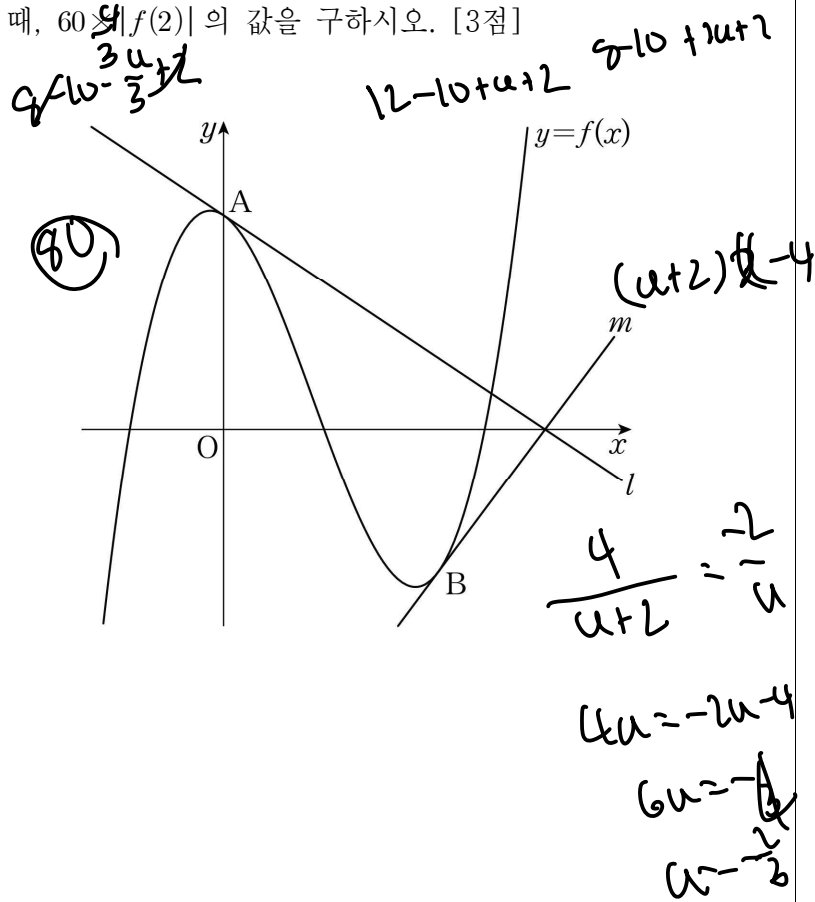
일 때, a_{10} 의 값을 구하시오. [3점]

$$\begin{aligned} 2\sum_1^{10} - a_{10} &= 137 && (\sum_1^{10} - a_{10}) \\ -2\sum_1^9 + 2a_{10} &= 101 && (\sum_1^9 - 2\sum_1^9 + 2a_{10}) \\ 3a_{10} &= 339 \\ a_{10} &= 113 \end{aligned}$$

(113)

19. 실수 a 에 대하여 함수 $f(x) = x^3 - \frac{5}{2}x^2 + \frac{2}{3}x + 2$ 이다.

곡선 $y=f(x)$ 위의 두 점 $A(0, 2), B(2, f(2))$ 에서의 접선을 각각 l, m 이라 하자. 두 직선 l, m 이 만나는 점이 x 축 위에 있을 때, $60 \frac{|f(2)|}{|f'(2)|}$ 의 값을 구하시오. [3점]



20. 두 함수 $f(x) = 2x^2 + 2x - 1, g(x) = \cos \frac{\pi}{3}x$ 에 대하여

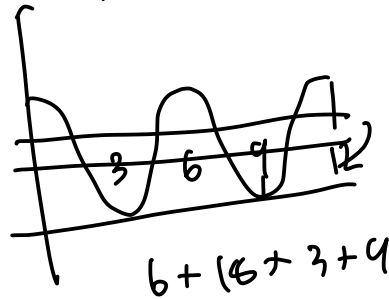
$0 \leq x < 12$ 에서 방정식

$$f(g(x)) = g(x)$$

를 만족시키는 모든 실수 x 의 값의 합을 구하시오. [4점]

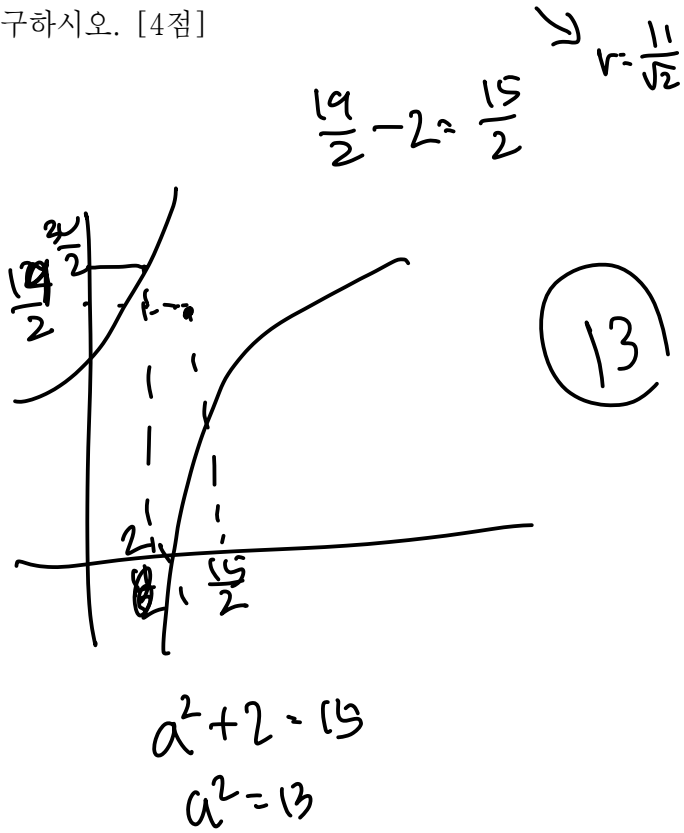
$$f(t) = t$$

$$\begin{aligned} 2x^2 + 2x - 1 &= \frac{1}{2} \text{ or } -1 \\ 2x^2 + 2x - \frac{1}{2} &= 0 \quad \text{or} \quad 2x^2 + 2x - 1 = 0 \end{aligned}$$

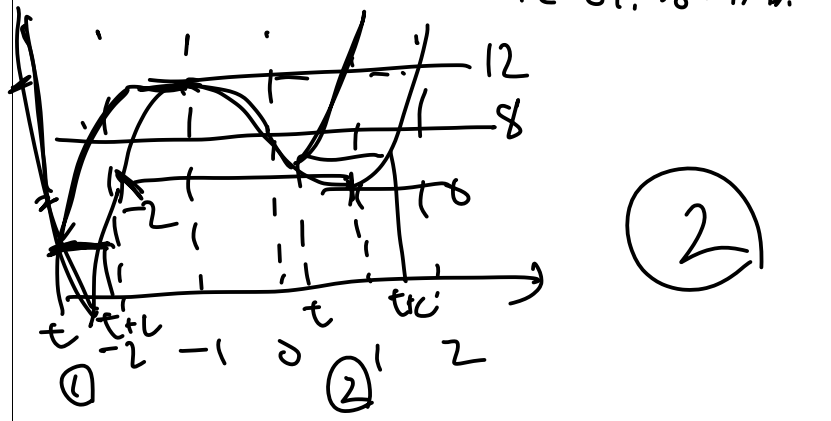


(36)

21. $a > 2$ 인 실수 a 에 대하여 기울기가 -1 인 직선이 두 곡선 $y = a^x + 2$, $y = \log_a x + 2$ 와 만나는 점을 각각 A, B라 하자. 선분 AB를 지름으로 하는 원의 중심의 y 좌표가 $\frac{19}{2}$ 이고 넓이가 $\frac{121}{2}\pi$ 일 때, a^2 의 값을 구하시오. [4점]



22. 함수 $f(x) = |x^3 - 3x + 8|$ 과 실수 t 에 대하여 닫힌구간 $[t, t+2]$ 에서의 $f(x)$ 의 최댓값을 $g(t)$ 라 하자. 서로 다른 두 실수 α, β 에 대하여 함수 $g(t)$ 는 $t = \alpha$ 와 $t = \beta$ 에서만 미분가능하지 않다. $\alpha\beta = m + n\sqrt{6}$ 일 때, $m+n$ 의 값을 구하시오. (단, m, n 은 정수이다.) [4점]



1) $f(t) = f(t+2)$

$$(t-1)^2(t+2) = (t+1)^2(t+4)$$

$$(t^2-2t+1)(t+2) = (t^2+2t+1)(t+4)$$

$$\begin{matrix} t^3-2t^2+t & t^3+2t^2+t \\ 2t^2-4t+2 & 4t^2+6t+4 \\ \hline -t+2 & 6t^2+9t+4 \end{matrix}$$

$$-t+2 = 6t^2+9t+4$$

$$6t^2+12t+2 = 0$$

$$3t^2+6t+1 = 0$$

$$\frac{-3 \pm \sqrt{6}}{3} \quad \boxed{-1 + \frac{1}{2}\sqrt{6}}$$

3 or -3 배수

2)

$$-(t+2)(t-1)^2 + 6 = (t+4)(t-1)^2 + 6$$

$$(t+4)(t-1)^2 + (t+2)(t-1)^2 = -12$$

$$\begin{matrix} 1 & 4 \\ \times & \times \\ \hline 1 & 4 \end{matrix} \quad - 16 = -12$$

* 확인 사항

- 답안지의 해당란에 필요한 내용을 정확히 기입(표기)했는지 확인하시오.
- 이어서, 「선택과목(확률과 통계)」 문제가 제시되오니, 자신이 선택한 과목인지 확인하시오.

제 2 교시

수학 영역(미적분)

5 지선 다형

23. $\lim_{n \rightarrow \infty} \frac{2^{n+1} + 3^{n-1}}{2^n - 3^n}$ 의 값은? [2점]

- ① $-\frac{1}{3}$
 ② $-\frac{1}{6}$
 ③ 0
 ④ $\frac{1}{6}$
 ⑤ $\frac{1}{3}$

24. 두 수열 $\{a_n\}, \{b_n\}$ 이

$$\lim_{n \rightarrow \infty} \frac{1}{n} a_n = 1, \quad \lim_{n \rightarrow \infty} \frac{3^n}{n} = 3$$

을 만족시킬 때, $\lim_{n \rightarrow \infty} \frac{n^2 a_n + b_n}{1 + 2b_n}$ 의 값은? [3점]

- ① $\frac{1}{3}$
 ② $\frac{1}{2}$
 ③ $\frac{2}{3}$
 ④ $\frac{5}{6}$
 ⑤ 1

$$\frac{n + 3n}{6n}$$

25. 수열 $\{a_n\}$ 이 모든 자연수 n 에 대하여

$$2n+3 < a_n < 2n+4$$

를 만족시킬 때, $\lim_{n \rightarrow \infty} \frac{(4n)^2 + 6n^2}{2n^2}$ 의 값은? [3점]

- ① 1 ② 2 ③ 3 ④ 4 ⑤ 5

26. 수열 $\{a_n\}$ 이 모든 자연수 n 에 대하여

$$a_{n+1} - a_n = a_1 + 2$$

를 만족시킨다. $\lim_{n \rightarrow \infty} \frac{2a_n + n}{a_n - n + 1} = 3$ 일 때, a_{10} 의 값은?

(단, $a_1 > 0$) [3점]

- ① 35 ② 36 ③ 37 ④ 38 ⑤ 39

$$\begin{aligned} (2+a)n \\ 4+a+1 \\ 4n-2 \end{aligned} \quad \left(\frac{5+2a}{2+2a} = \frac{3}{2} \right) \quad \begin{aligned} 2a=4 \\ a=2 \end{aligned}$$

3n

27. $a_1=3, a_2=6$ 인 등차수열 $\{a_n\}$ 과 모든 항이 양수인 수열 $\{b_n\}$ 이 모든 자연수 n 에 대하여

$$\sum_{k=1}^n a_k(b_k)^2 = n^3 - n + 3$$

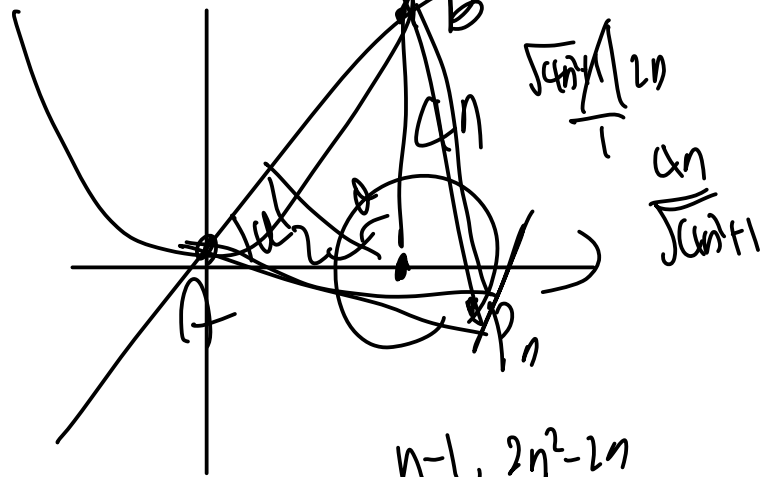
을 만족시킬 때, $\lim_{n \rightarrow \infty} \frac{a_n}{b_n b_{2n}}$ 의 값은? [3점]

- ① $\frac{3}{2}$ ② $\frac{3\sqrt{2}}{2}$ ③ 3 ④ $3\sqrt{2}$ ⑤ 6

$(a_n(b_n))^2 = 3n^2 - 3n$
 $(b_n)^2 = n - \frac{3n}{\sqrt{n-1}\sqrt{2n+1}}$
 $b_n = \sqrt{n-1}$

28. 자연수 n 에 대하여 직선 $y=2nx$ 가 곡선 $y=x^2+n^2-1$ 과 만나는 두 점을 각각 A_n, B_n 이라 하자. 원 $(x-2)^2+y^2=1$ 위의 점 P 에 대하여 삼각형 $A_n B_n P$ 의 넓이가 최대가 되도록 하는 점 P 를 P_n 이라 할 때, 삼각형 $A_n B_n P_n$ 의 넓이를 S_n 이라 하자. $\lim_{n \rightarrow \infty} \frac{S_n}{n}$ 의 값은? [4점]

- ① 2 ② 4 ③ 6 ④ 8 ⑤ 10



$x^2 - 2nx + n^2 - 1 = 0$
 $x = \frac{2n \pm \sqrt{4n^2 - 4(n^2 - 1)}}{2} = n \pm 1$
 $A_n(n-1, 2n^2-2n)$
 $B_n(n+1, 2n^2+2n)$

$2nx - y = 0$
 $\frac{|2n(n-1) - (2n^2-2n)|}{\sqrt{4n^2+1}}$

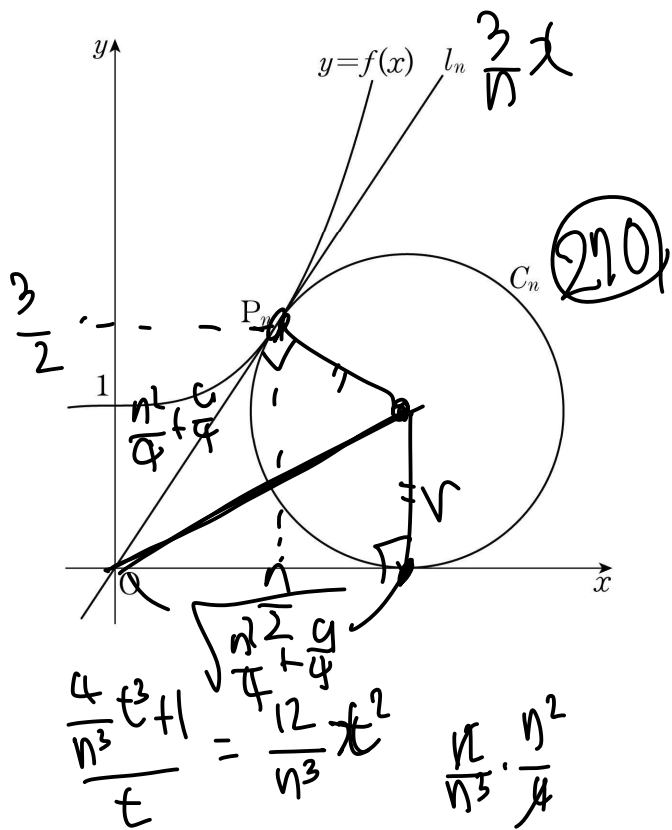
$2n \cdot 4n$
 $|2n \cdot n|$

단답형

29. 자연수 n 에 대하여 함수 $f(x)$ 를

$$f(x) = \frac{4}{n^3}x^3 + 1$$

이라 하자. 원점에서 곡선 $y=f(x)$ 에 그은 접선을 l_n , 접선 l_n 의 접점을 P_n 이라 하자. x 축과 직선 l_n 에 동시에 접하고 점 P_n 을 지나는 원 중 중심의 x 좌표가 양수인 것을 C_n 이라 하자. 원 C_n 의 반지름의 길이를 r_n 이라 할 때, $40 \times \lim_{n \rightarrow \infty} n^2(4r_n - 3)$ 의 값을 구하시오. [4점]



$$\frac{4}{n^3}t^3 + 1 = \frac{12}{n^3}t^2$$

$$\frac{4}{n^3}t^3 - 1 = \frac{12}{n^3}t^2$$

$$\frac{4}{n^3}t^3 - 1 = 0$$

$$t = \frac{n}{2}$$

$$y = -\frac{n}{3} \left(\sqrt{\frac{n^2}{4} + \frac{9}{4}} - \frac{n}{2} \right) + \frac{3}{2}$$

$$\frac{n^2}{6} - \frac{n}{3} \sqrt{\frac{n^2}{4} + \frac{9}{4}} + \frac{3}{2}$$

$$\frac{(\frac{2}{3}n^2 + 3) - \frac{4n}{3} \sqrt{\frac{n^2}{4} + \frac{9}{4}}}{\frac{4}{9}n^2 + 4n^2 + 9 - \frac{4}{9}n^2 - 4n^2}$$

$$\frac{9n^2}{\frac{2n^2}{3} + 3 + \frac{4n}{3} \sqrt{\frac{n^2}{4} + \frac{9}{4}}}$$

$$\frac{2}{3} + \frac{2}{3}n^2 + \frac{2n}{3}$$

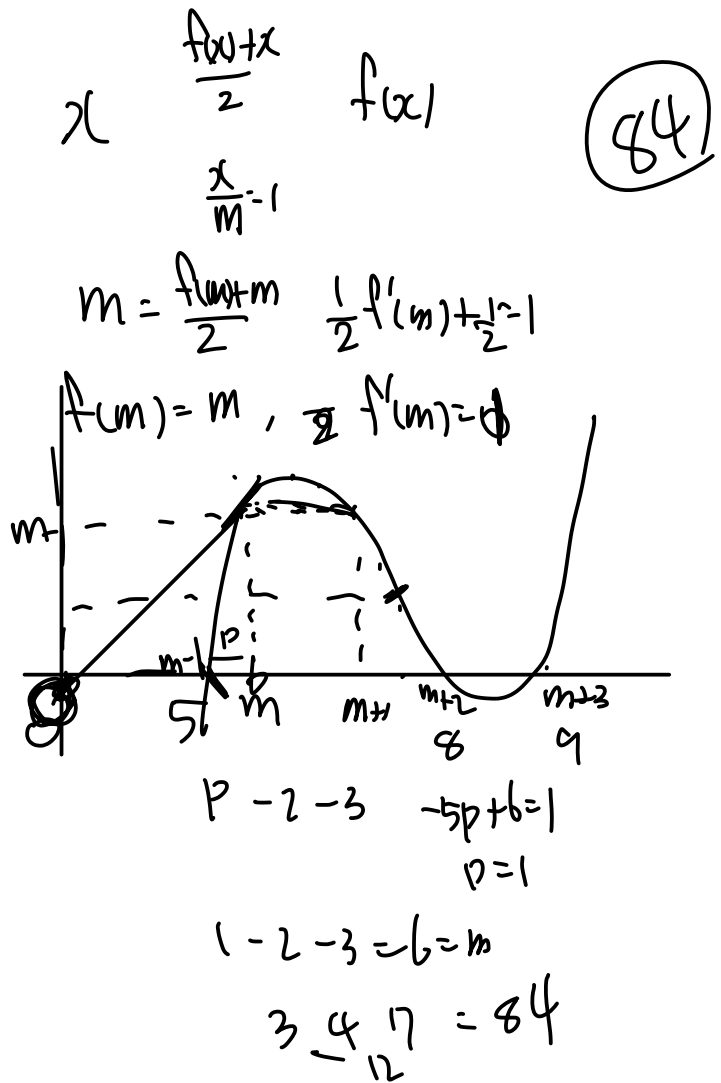
30. 최고차항의 계수가 1인 삼차함수 $f(x)$ 와 자연수 m 에 대하여 구간 $(0, \infty)$ 에서 정의된 함수 $g(x)$ 를 $x^3 + \dots$

$$g(x) = \lim_{n \rightarrow \infty} \frac{f(x) \left(\frac{x}{m}\right)^n + x}{\left(\frac{x}{m}\right)^n + 1}$$

라 하자. 함수 $g(x)$ 는 다음 조건을 만족시킨다.

- (가) 함수 $g(x)$ 는 구간 $(0, \infty)$ 에서 미분가능하고, $g'(m+1) \leq 0$ 이다.
- (나) $g(k)g(k+1) = 0$ 을 만족시키는 자연수 k 의 개수는 3이다.
- (다) $g(l) \geq g(l+1)$ 을 만족시키는 자연수 l 의 개수는 3이다.

$g(12)$ 의 값을 구하시오. [4점]



* 확인 사항
 ○ 답안지의 해당란에 필요한 내용을 정확히 기입(표기)했는지 확인하시오.
 ○ 이어서, 「선택과목(기하)」 문제가 제시되오니, 자신이 선택한 과목인지 확인하시오.